

Miejsce
na naklejkę
z kodem szkoły

dysleksja

PRÓBNY EGZAMIN MATURALNY Z MATEMATYKI

POZIOM PODSTAWOWY

Czas pracy 120 minut

LISTOPAD
ROK 2006

Instrukcja dla zdającego

1. Sprawdź, czy arkusz egzaminacyjny zawiera 15 stron (zadania 1 – 11). Ewentualny brak zgłoś przewodniczącemu zespołu nadzorującego egzamin.
2. Rozwiązania zadań i odpowiedzi zamieść w miejscu na to przeznaczonym.
3. W rozwiązaniach zadań przedstaw tok rozumowania prowadzący do ostatecznego wyniku.
4. Pisz czytelnie. Używaj długopisu/pióra tylko z czarnym tuszem/atramentem.
5. Nie używaj korektora, a błędne zapisy przekreśl.
6. Pamiętaj, że zapisy w brudnopisie nie podlegają ocenie.
7. Możesz korzystać z zestawu wzorów matematycznych, cyrkla i linijki oraz kalkulatora.
8. Wypełnij tę część karty odpowiedzi, którą koduje zdający. Nie wpisuj żadnych znaków w części przeznaczonej dla egzaminatora.
9. Na karcie odpowiedzi wpisz swoją datę urodzenia i PESEL. Zamaluj ■ pola odpowiadające cyfrom numeru PESEL. Błędne zaznaczenie otocz kółkiem ⊙ i zaznacz właściwe.

Życzymy powodzenia!

Za rozwiązanie
wszystkich zadań
można otrzymać
łącznie
50 punktów

Wypełnia zdający przed
rozpoczęciem pracy

--	--	--	--	--	--	--	--	--	--

PESEL ZDAJĄCEGO

--	--	--

KOD
ZDAJĄCEGO




Zadanie 1. (3 pkt)

Wzrost kursu euro w stosunku do złotego spowodował podwyżkę ceny wycieczki zagranicznej o 5%. Ponieważ nowa cena nie była zachęcająca, postanowiono obniżyć ją o 8%, ustalając cenę promocyjną równą 1449 zł. Oblicz pierwotną cenę wycieczki dla jednego uczestnika.



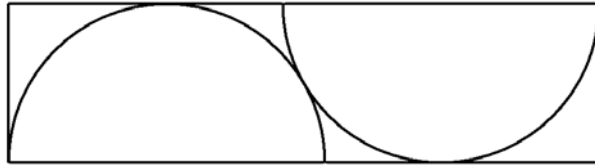
Zadanie 2. (4 pkt)

Dany jest kwadrat o boku długości a . W prostokącie $ABCD$ bok AB jest dwa razy dłuższy niż bok kwadratu, a bok AD jest o 2 cm krótszy od boku kwadratu. Pole tego prostokąta jest o 12 cm^2 większe od pola kwadratu. Oblicz długość boku kwadratu.




Zadanie 3. (5 pkt)

Z prostokąta o szerokości 60 cm wycina się detale w kształcie półkola o promieniu 60 cm. Sposób wycinania detali ilustruje poniższy rysunek.




Oblicz najmniejszą długość prostokąta potrzebnego do wycięcia dwóch takich detali. Wynik zaokrąglij do pełnego centymetra.



Zadanie 4. (3 pkt)

Wielomian $W(x) = -2x^4 + 5x^3 + 9x^2 - 15x - 9$ jest podzielny przez dwumian $(2x+1)$.
Wyznacz pierwiastki tego wielomianu.




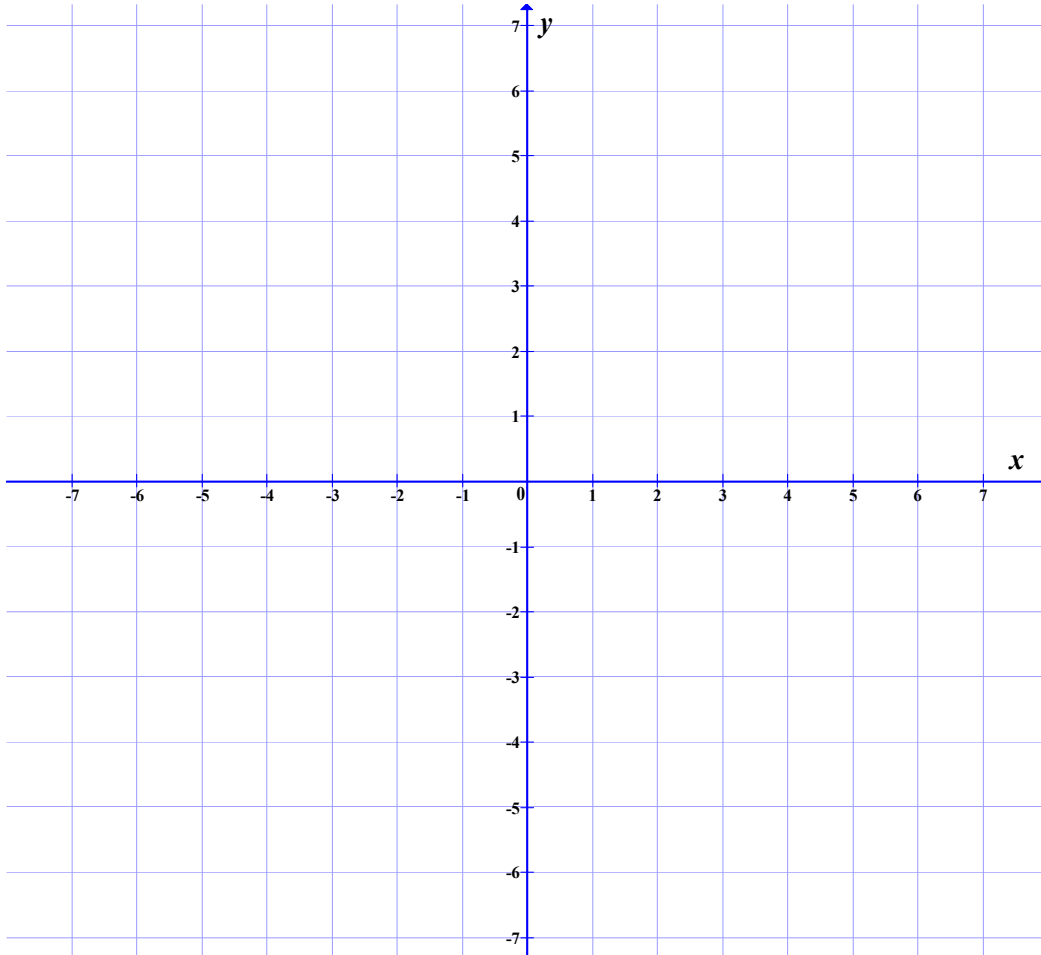
Zadanie 5. (5 pkt)

Dane są proste o równaniach $2x - y - 3 = 0$ i $2x - 3y - 7 = 0$.

- a) Zaznacz w prostokątnym układzie współrzędnych na płaszczyźnie kąta opisany


$$\begin{cases} 2x - y - 3 \leq 0 \\ 2x - 3y - 7 \leq 0 \end{cases}$$

- b) Oblicz odległość punktu przecięcia się tych prostych od punktu $S = (3, -8)$.





Więcej arkuszy maturalnych z matematyki na mgr2.pl/arkusze




Zadanie 6. (5 pkt)

W urnie znajdują się kule z kolejnymi liczbami 10, 11, 12, 13, ..., 50, przy czym kul z liczbą 10 jest 10, kul z liczbą 11 jest 11 itd., a kul z liczbą 50 jest 50. Z urny tej losujemy jedną kulę. Oblicz prawdopodobieństwo, że wylosujemy kulę z liczbą parzystą.



Zadanie 7. (6 pkt)

W graniastosłupie prawidłowym czworokątnym przekątna podstawy ma długość 8 cm i tworzy z przekątną ściany bocznej, z którą ma wspólny wierzchołek kąt, którego cosinus jest równy $\frac{2}{3}$. Oblicz objętość i pole powierzchni całkowitej tego graniastosłupa.

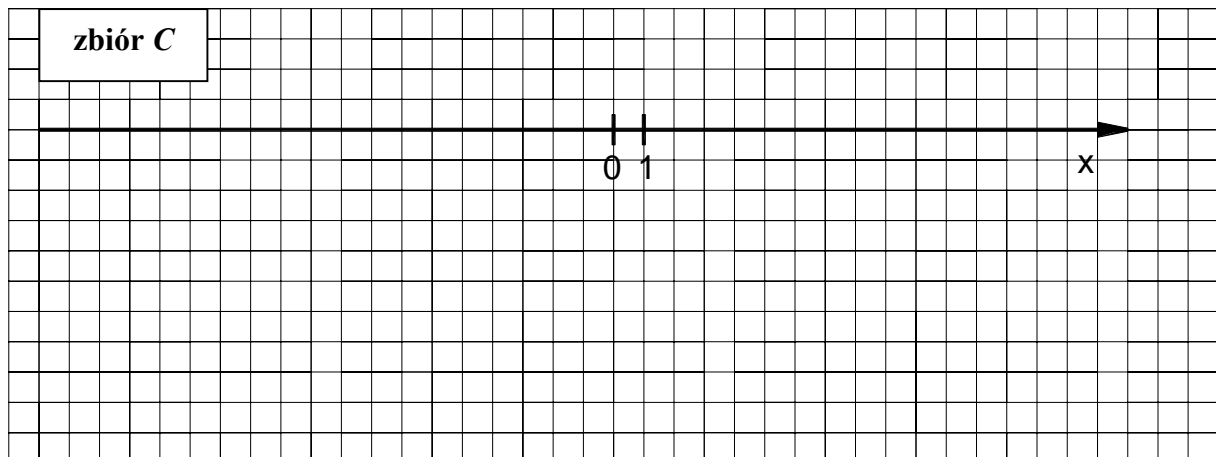
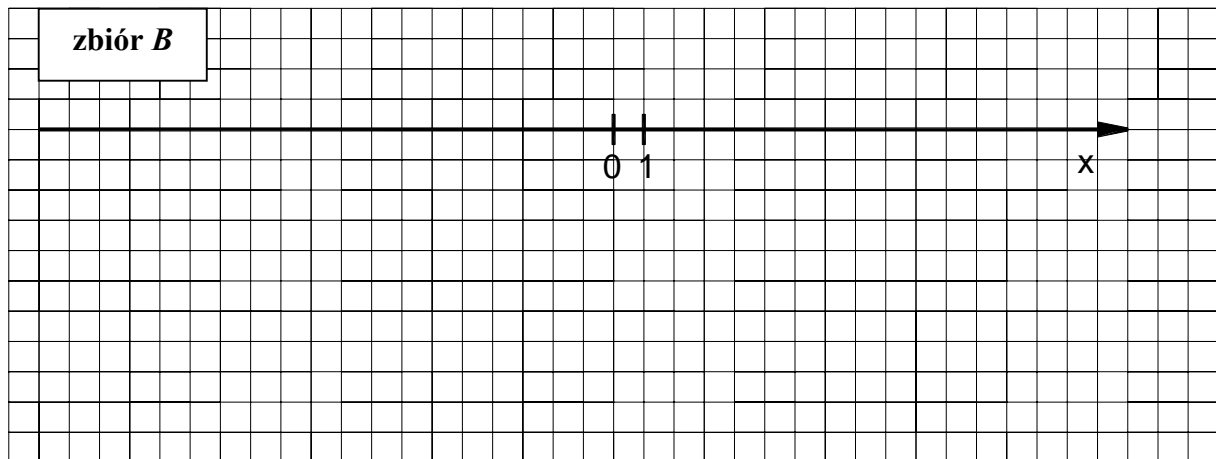
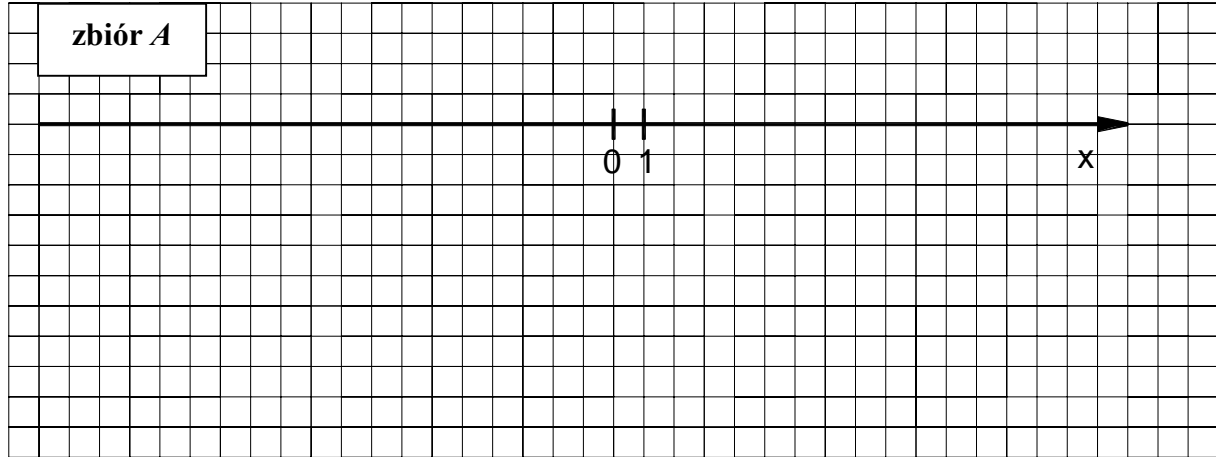


Zadanie 10. (6 pkt)

Dane są zbiory:


$$A = \{x \in \mathbb{R} : |5 - x| \geq 3\}, \quad B = \{x \in \mathbb{R} : x^2 - 9 \geq 0\} \quad \text{i} \quad C = \left\{x \in \mathbb{R} : \frac{x+1}{x-1} \leq 1\right\}.$$

- a) Zaznacz na osi liczbowej zbiory A , B i C .
 b) Wyznacz i zapisz za pomocą przedziału liczbowego zbiór $C \setminus (A \cap B)$.





Więcej arkuszy maturalnych z matematyki na mgr2.pl/arkusze



Zadanie 11. (4 pkt)

Funkcja f przyporządkowuje każdej liczbie rzeczywistej x z przedziału $\langle -4, -2 \rangle$ połowę kwadratu tej liczby pomniejszoną o 8.

- Podaj wzór tej funkcji.
- Wyznacz najmniejszą wartość funkcji f w podanym przedziale.



BRUDNOPIS



Więcej arkuszy maturalnych z matematyki na mgr2.pl/arkusze