

WYPEŁNIA ZDAJĄCY

KOD

--	--	--

PESEL

--	--	--	--	--	--	--	--	--	--

**Miejsce na naklejkę.**

Sprawdź, czy kod na naklejce to  
**E-100.**

Jeżeli tak – przyklej naklejkę.  
Jeżeli nie – zgłoś to nauczycielowi.

**Egzamin maturalny**

**Formuła 2015**



Więcej arkuszy maturalnych z matematyki na mgr2.pl/arkusze

# MATEMATYKA

## Poziom rozszerzony

Symbol arkusza

EMAP-R0-**100**-2405

DATA: **15 maja 2024 r.**

GODZINA ROZPOCZĘCIA: **9:00**

CZAS TRWANIA: **180 minut**

LICZBA PUNKTÓW DO UZYSKANIA: **50**

WYPEŁNIA ZESPÓŁ NADZORUJĄCY

Uprawnienia zdającego do:



- dostosowania zasad oceniania
- nieprzenoszenia odpowiedzi na kartę.

**Przed rozpoczęciem pracy z arkuszem egzaminacyjnym**

1. Sprawdź, czy nauczyciel przekazał Ci **właściwy arkusz egzaminacyjny**, tj. arkusz we **właściwej formule**, z **właściwego przedmiotu** na **właściwym poziomie**.
2. Jeżeli przekazano Ci **niewłaściwy** arkusz – natychmiast zgłoś to nauczycielowi. Nie rozrywaj banderol.
3. Jeżeli przekazano Ci **właściwy** arkusz – rozerwij banderole po otrzymaniu takiego polecenia od nauczyciela. Zapoznaj się z instrukcją na stronie 2.




# Instrukcja dla zdającego

1. Sprawdź, czy arkusz egzaminacyjny zawiera 29 stron (zadania 1–16).  
Ewentualny brak zgłoś przewodniczącemu zespołu nadzorującego egzamin.
2. Na pierwszej stronie arkusza oraz na karcie odpowiedzi wpisz swój numer PESEL i przyklej naklejkę z kodem.
3. Odpowiedzi do zadań zamkniętych (1–4) zaznacz na karcie odpowiedzi w części karty przeznaczonej dla zdającego. Zamaluj  pola do tego przeznaczone. Błędne zaznaczenie otocz kółkiem  i zaznacz właściwe.
4. W zadaniu 5. wpisz odpowiednie cyfry w kratki pod treścią zadania.
5. Pamiętaj, że pominięcie argumentacji lub istotnych obliczeń w rozwiązaniu zadania otwartego (6–16) może spowodować, że za to rozwiązanie nie otrzymasz pełnej liczby punktów.
6. Rozwiązania zadań i odpowiedzi wpisuj w miejscu na to przeznaczonym.
7. Pisz czytelnie i używaj tylko długopisu lub pióra z czarnym tuszem lub atramentem.
8. Nie używaj korektora, a błędne zapisy wyraźnie przekreśl.
9. Nie wpisuj żadnych znaków w części przeznaczonej dla egzaminatora.
10. Pamiętaj, że zapisy w brudnopisie nie będą oceniane.
11. Możesz korzystać z *Wybranych wzorów matematycznych*, cyrkla i linijki oraz kalkulatora prostego. Upewnij się, czy przekazano Ci broszurę z okładką taką jak widoczna poniżej.



Więcej arkuszy maturalnych z matematyki na [mgr2.pl/arkusze](http://mgr2.pl/arkusze)





Więcej arkuszy maturalnych z matematyki na [mgr2.pl/arkusze](http://mgr2.pl/arkusze)

**Zadania egzaminacyjne są wydrukowane  
na następnych stronach.**

W każdym z zadań od 1. do 4. wybierz i zaznacz na karcie odpowiedzi poprawną odpowiedź.

### Zadanie 1. (0–1)

Odległość punktu  $A = (6, 2)$  od prostej o równaniu  $5x - 12y + 1 = 0$  jest równa

- A.  $\frac{7}{13}$                       B.  $\frac{7}{12}$                       C.  $\frac{5}{12}$                       D.  $\frac{12}{13}$

### Zadanie 2. (0–1)

Równanie  $|2x - 4| = 3x + 1$  w zbiorze liczb rzeczywistych

- A. nie ma rozwiązań.  
B. ma dokładnie jedno rozwiązanie.  
C. ma dokładnie dwa rozwiązania.  
D. ma dokładnie cztery rozwiązania.

### Zadanie 3. (0–1)

Funkcja  $f$  jest określona wzorem  $f(x) = |-(x + 2)^3 + 5|$  dla każdej liczby rzeczywistej  $x$ . Zbiorem wartości funkcji  $f$  jest przedział

- A.  $\langle -2, +\infty \rangle$                       B.  $\langle 0, +\infty \rangle$                       C.  $\langle 3, +\infty \rangle$                       D.  $\langle 5, +\infty \rangle$

### Zadanie 4. (0–1)

Granica  $\lim_{x \rightarrow +\infty} \frac{1 + 3a + 2ax + ax^3}{3 + 4x + 5x^2 + 5x^3}$  jest równa 3. Wtedy

- A.  $a = 3$                       B.  $a = 9$                       C.  $a = 15$                       D.  $a = 21$








**Zadanie 6. (0–3)**

Wykaż, że jeżeli  $\log_5 4 = a$  oraz  $\log_4 3 = b$ , to  $\log_{12} 80 = \frac{2a + 1}{a \cdot (1 + b)}$ .




Więcej arkuszy maturalnych z matematyki na [mgr2.pl/arkusze](http://mgr2.pl/arkusze)

<b>Wypełnia egzaminator</b>	<b>Nr zadania</b>	<b>5.</b>	<b>6.</b>
	<b>Maks. liczba pkt</b>	<b>2</b>	<b>3</b>
	<b>Uzyskana liczba pkt</b>		

**Zadanie 7. (0–3)**

Dany jest czworokąt wypukły  $ABCD$ . Przekątne  $AC$  oraz  $BD$  tego czworokąta przecinają się w punkcie  $S$ .


Wykaż, że jeżeli  $\frac{|AS|}{|DS|} = \frac{|BS|}{|CS|}$ , to na czworokącie  $ABCD$  można opisać okrąg.



Więcej arkuszy maturalnych z matematyki na [mgr2.pl/arkusze](http://mgr2.pl/arkusze)




Więcej arkuszy maturalnych z matematyki na [mgr2.pl/arkusze](http://mgr2.pl/arkusze)



<b>Wypełnia egzaminator</b>	<b>Nr zadania</b>	<b>7.</b>
	<b>Maks. liczba pkt</b>	<b>3</b>
	<b>Uzyskana liczba pkt</b>	

### Zadanie 8. (0–3)

Rozważamy wszystkie liczby naturalne, w których zapisie dziesiętnym nie powtarza się jakakolwiek cyfra oraz dokładnie trzy cyfry są nieparzyste i dokładnie dwie cyfry są parzyste. Oblicz, ile jest wszystkich takich liczb.



Więcej arkuszy maturalnych z matematyki na [mgr2.pl/arkusze](http://mgr2.pl/arkusze)

**Zadanie 9. (0–3)**

Funkcja  $f$  jest określona wzorem


$$f(x) = \frac{x^3 - 3x + 2}{x}$$

dla każdej liczby rzeczywistej  $x$  różnej od zera. Punkt  $P$ , o pierwszej współrzędnej równej 2, należy do wykresu funkcji  $f$ . Prosta o równaniu  $y = ax + b$  jest styczna do wykresu funkcji  $f$  w punkcie  $P$ .

Oblicz współczynniki  $a$  oraz  $b$  w równaniu tej stycznej.



Więcej arkuszy maturalnych z matematyki na [mgr2.pl/arkusze](http://mgr2.pl/arkusze)




<b>Wypełnia egzaminator</b>	<b>Nr zadania</b>	<b>8.</b>	<b>9.</b>
	<b>Maks. liczba pkt</b>	<b>3</b>	<b>3</b>
	<b>Uzyskana liczba pkt</b>		

### Zadanie 10. (0–3)

Spośród wszystkich liczb naturalnych sześciocyfrowych, których wszystkie cyfry należą do zbioru  $\{1, 2, 3, 4, 5, 6, 7, 8\}$ , losujemy jedną. Wylosowanie każdej z tych liczb jest jednakowo prawdopodobne.


Oblicz prawdopodobieństwo zdarzenia polegającego na tym, że wylosujemy liczbę, która ma następującą własność: kolejne cyfry tej liczby (licząc od lewej strony) tworzą – w podanej kolejności – sześciocyfrowy ciąg malejący.



Więcej arkuszy maturalnych z matematyki na [mgr2.pl/arkusze](http://mgr2.pl/arkusze)



Więcej arkuszy maturalnych z matematyki na [mgr2.pl/arkusze](http://mgr2.pl/arkusze)




<b>Wypełnia egzaminator</b>	<b>Nr zadania</b>	<b>10.</b>
	<b>Maks. liczba pkt</b>	<b>3</b>
	<b>Uzyskana liczba pkt</b>	

**Zadanie 11. (0–4)**

Trzywyrazowy ciąg  $(x, y, z)$  jest geometryczny i rosnący. Suma wyrazów tego ciągu jest równa 105. Liczby  $x, y$  oraz  $z$  są – odpowiednio – pierwszym, drugim oraz szóstym wyrazem ciągu arytmetycznego  $(a_n)$ , określonego dla każdej liczby naturalnej  $n \geq 1$ . Oblicz  $x, y$  oraz  $z$ .




Więcej arkuszy maturalnych z matematyki na [mgr2.pl/arkusze](http://mgr2.pl/arkusze)





Więcej arkuszy maturalnych z matematyki na [mgr2.pl/arkusze](http://mgr2.pl/arkusze)




<b>Wypełnia egzaminator</b>	<b>Nr zadania</b>	<b>11.</b>
	<b>Maks. liczba pkt</b>	<b>4</b>
	<b>Uzyskana liczba pkt</b>	

**Zadanie 12. (0–4)**


Rozwiąż równanie

$$\sin(2x) + \cos(2x) = 1 + \sin x - \cos x$$

w zbiorze  $(0, 2\pi)$ .Więcej arkuszy maturalnych z matematyki na [mgr2.pl/arkusze](http://mgr2.pl/arkusze)



Więcej arkuszy maturalnych z matematyki na mgr2.pl/arkusze




<b>Wypełnia egzaminator</b>	<b>Nr zadania</b>	<b>12.</b>
	<b>Maks. liczba pkt</b>	<b>4</b>
	<b>Uzyskana liczba pkt</b>	

**Zadanie 13. (0–4)**

Promień okręgu opisanego na trójkącie  $ABC$  jest równy 17. Najdłuższym bokiem tego trójkąta jest bok  $AC$ , a długości dwóch pozostałych boków są równe  $|AB| = 30$  oraz  $|BC| = 17$ . Oblicz miarę kąta  $BAC$  oraz długość boku  $AC$  tego trójkąta.




Więcej arkuszy maturalnych z matematyki na [mgr2.pl/arkusze](http://mgr2.pl/arkusze)





Więcej arkuszy maturalnych z matematyki na mgr2.pl/arkusze




<b>Wypełnia egzaminator</b>	<b>Nr zadania</b>	<b>13.</b>
	<b>Maks. liczba pkt</b>	<b>4</b>
	<b>Uzyskana liczba pkt</b>	

**Zadanie 14. (0–5)**

Środek  $S$  okręgu o promieniu  $\sqrt{5}$  leży na prostej o równaniu  $y = x + 1$ . Przez punkt  $A = (1, 2)$ , którego odległość od punktu  $S$  jest większa od  $\sqrt{5}$ , poprowadzono dwie proste styczne do tego okręgu w punktach – odpowiednio –  $B$  i  $C$ . Pole czworokąta  $ABSC$  jest równe 15.


Oblicz współrzędne punktu  $S$ . Rozważ wszystkie przypadki.



Więcej arkuszy maturalnych z matematyki na [mgr2.pl/arkusze](http://mgr2.pl/arkusze)



Więcej arkuszy maturalnych z matematyki na mgr2.pl/arkusze



<b>Wypełnia egzaminator</b>	<b>Nr zadania</b>	<b>14.</b>
	<b>Maks. liczba pkt</b>	<b>5</b>
	<b>Uzyskana liczba pkt</b>	


**Zadanie 15. (0–6)**

Wyznacz wszystkie wartości parametru  $m$ , dla których równanie

$$x^2 - (3m + 1) \cdot x + 2m^2 + m + 1 = 0$$

ma dwa różne rozwiązania rzeczywiste  $x_1, x_2$  spełniające warunek


$$x_1^3 + x_2^3 + 3 \cdot x_1 \cdot x_2 \cdot (x_1 + x_2 - 3) \leq 3m - 7$$



Więcej arkuszy maturalnych z matematyki na [mgr2.pl/arkusze](http://mgr2.pl/arkusze)




Więcej arkuszy maturalnych z matematyki na [mgr2.pl/arkusze](http://mgr2.pl/arkusze)





Więcej arkuszy maturalnych z matematyki na [mgr2.pl/arkusze](http://mgr2.pl/arkusze)



<b>Wypełnia egzaminator</b>	<b>Nr zadania</b>	<b>15.</b>
	<b>Maks. liczba pkt</b>	<b>6</b>
	<b>Uzyskana liczba pkt</b>	

**Zadanie 16. (0–6)**

Rozważamy wszystkie graniastosłupy prawidłowe trójkątne o objętości 3456, których krawędź podstawy ma długość nie większą niż  $8\sqrt{3}$ .

- a) Wykaż, że pole  $P$  powierzchni całkowitej graniastosłupa w zależności od długości  $a$  krawędzi podstawy graniastosłupa jest określone wzorem


$$P(a) = \frac{a^2 \cdot \sqrt{3}}{2} + \frac{13824\sqrt{3}}{a}$$

- b) Pole  $P$  powierzchni całkowitej graniastosłupa w zależności od długości  $a$  krawędzi podstawy graniastosłupa jest określone wzorem

$$P(a) = \frac{a^2 \cdot \sqrt{3}}{2} + \frac{13824\sqrt{3}}{a}$$


dla  $a \in (0, 8\sqrt{3})$ .

Wyznacz długość krawędzi podstawy tego z rozważanych graniastosłupów, którego pole powierzchni całkowitej jest najmniejsze. Oblicz to najmniejsze pole.






Więcej arkuszy maturalnych z matematyki na [mgr2.pl/arkusze](http://mgr2.pl/arkusze)





Więcej arkuszy maturalnych z matematyki na [mgr2.pl/arkusze](http://mgr2.pl/arkusze)




<b>Wypełnia egzaminator</b>	<b>Nr zadania</b>	<b>16.</b>
	<b>Maks. liczba pkt</b>	<b>6</b>
	<b>Uzyskana liczba pkt</b>	





Więcej arkuszy maturalnych z matematyki na [mgr2.pl/arkusze](http://mgr2.pl/arkusze)



Więcej arkuszy maturalnych z matematyki na [mgr2.pl/arkusze](http://mgr2.pl/arkusze)



Więcej arkuszy maturalnych z matematyki na [mgr2.pl/arkusze](http://mgr2.pl/arkusze)



**MATEMATYKA**

**Poziom rozszerzony**

*Formuła 2015*



Więcej arkuszy maturalnych z matematyki na [mgr2.pl/arkusze](http://mgr2.pl/arkusze)

**MATEMATYKA**

**Poziom rozszerzony**

*Formuła 2015*

**MATEMATYKA**

**Poziom rozszerzony**

*Formuła 2015*